


ใบงาน

วิชาสังคมศึกษา (สค21001)

ระดับมัธยมศึกษาตอนต้น



ชื่อ - สกุล.....โดย.....เลขที่.....

เสนอ
อาจารย์.....

ภาคเรียนที่ 2 ปีการศึกษา 2556

กศน.ตำบลเขาดิน

ศูนย์การศึกษาานอกระบบและการศึกษาตามอัธยาศัยอำเภอบางปะกง

ใบงาน ที่ 1 วิชาสังคมศึกษา ม.ต้น เรื่องภูมิศาสตร์กายภาพทวีปเอเชีย

1. ให้นักศึกษาบอก ลักษณะทางภูมิศาสตร์กายภาพของประเทศต่างๆในทวีปเอเชีย
ที่ตั้ง และอาณาเขต ในทวีปเอเชีย

ทิศเหนือ

.....
.....

ทิศตะวันออก

.....
.....

ทิศใต้

.....
.....

ทิศตะวันตก

.....
.....

ลักษณะภูมิประเทศในทวีปเอเชีย

.....
.....

.....
.....

ลักษณะภูมิอากาศ ในทวีปเอเชีย

.....
.....

.....
.....

.....
.....

.....
.....

.....
.....

2. ในทวีปเอเชีย แบ่งออกเป็น 5 ภูมิภาค โดยกำหนดชื่อเรียกตามทิศทางอย่างไร จงอธิบาย

3. จงอธิบาย ที่ตั้งและอาณาเขต ภูมิประเทศต่างๆในทวีปเอเชีย

3.1 ประเทศอัฟกานิสถาน ที่ตั้ง

.....

.....

.....

ขนาด

.....

.....

ภูมิประเทศ

.....

.....

3.2 สาธารณรัฐประชาชนบังกลาเทศ ที่ตั้ง

.....

.....

ขนาด

.....

.....

ภูมิประเทศ

.....

.....

3.3 ราชอาณาจักรภูฏาน ที่ตั้ง

.....

.....

ขนาด

.....

.....

ภูมิประเทศ

.....

.....

3.4 ราชอาณาจักรกัมพูชาที่ตั้ง

.....
.....

ขนาด

.....
.....

ภูมิประเทศ

.....
.....

3.5 สาธารณรัฐประชาชนจีนที่ตั้ง

.....
.....

ขนาด

.....
.....

ภูมิประเทศ

.....
.....

3.6 สาธารณรัฐอินเดียที่ตั้ง

.....
.....

ขนาด

.....
.....

ภูมิประเทศ

.....
.....



3.7 สาธารณรัฐอิรักที่ตั้ง

.....
.....

ขนาด

.....
.....

ภูมิประเทศ

.....
.....

3.8 ญี่ปุ่นที่ตั้ง

.....
.....

ขนาด

.....
.....

ภูมิประเทศ

.....
.....

3.9 เกาหลีเหนือที่ตั้ง

.....
.....

ขนาด

.....
.....

ภูมิประเทศ

.....
.....



3.10 เกาหลีใต้ ที่ตั้ง

.....
.....

ขนาด

.....
.....

ภูมิประเทศ

.....
.....



ใบงานที่ 3 การใช้แผนที่

แผนที่ หมายถึง

.....

.....

.....

.....

สัญลักษณ์ในเข็มทิศ เมื่อวางเข็มทิศในแนวนอน

N หมายถึง

NE หมายถึง

E หมายถึง

SE หมายถึง

S หมายถึง

SW หมายถึง

W หมายถึง

NW หมายถึง

SW หมายถึง

สัญลักษณ์สีที่นิยมใช้

สีเขียว หมายถึง

สีน้ำตาล หมายถึง

สีเหลืองหรือสีส้ม หมายถึง


สีฟ้าหรือน้ำเงิน หมายถึง

สีขาว หมายถึง

.....



ให้นักศึกษา ลงรายละเอียดบนรูปโลก ต่อไปนี้ โดยมี เส้นเมริเดียน เส้นขนาน เส้นศูนย์สูตร



ดาวเทียม คือ

.....
.....
.....
.....
.....

ประโยชน์ของดาวเทียม

.....
.....
.....
.....
.....

GIS คือ อะไร และมีประโยชน์อย่างไร

.....
.....
.....
.....
.....

ใบงาน 4 เรื่อง สภาพภูมิศาสตร์กายภาพของไทยที่ส่งผลต่อทรัพยากรต่างๆและสิ่งแวดล้อม
ทรัพยากรธรรมชาติ มีกี่ประเภท อะไรบ้าง

.....

.....

.....

.....

.....

ป่าดงดิบ หมายถึง

.....

.....

.....

.....

ป่าชายเลน หมายถึง

.....

.....

ป่าเบญจพรรณ หมายถึง

.....

.....

ป่า หมายถึง

.....

.....

ภาวะโลกร้อน หมายถึง และนักศึกษามีวิธีช่วยลดโลกร้อนอย่างไร

.....

.....

.....

.....

ดิน หมายถึง แบ่งออกเป็นกี่ประเภท

.....

.....

.....

.....

.....

ส่วนประกอบของดิน มีอะไรบ้าง

.....

.....

.....

.....

.....

หิน หมายถึง แบ่งออกเป็นกี่ประเภท

.....

.....

.....

.....

.....

.....

จงอธิบายวัฏจักรของหิน

.....

.....


.....

.....

.....

.....

30 : 30: 30:10 หมายถึง อะไร จงอธิบาย สุดท้ายนักศึกษาจะนำมาใช้กับชีวิตประจำวันของตนเองได้อย่างไร



ใบงานเรื่อง เศรษฐศาสตร์

เศรษฐศาสตร์ หมายถึง อะไร มีความสำคัญอย่างไร

.....

.....

.....

.....

.....

.....

.....

.....

เศรษฐกิจสร้างสรรค์ คือ

.....

.....

.....

.....

.....

ประเภททรัพย์สินทางปัญญา

.....

.....

.....

.....

.....

จงอธิบายระบบเศรษฐกิจในไทย

.....

.....

.....

.....

.....

คุณธรรมในการผลิต

.....

.....

.....

.....

.....

จงอธิบายเกี่ยวกับ กฎหมายคุ้มครองผู้บริโภค ตาม พ.ร.บ. พ.ศ. 2522

.....

.....

.....

.....

.....

.....

.....

.....

.....

.....



ใบงาน การเมืองการปกครอง
จงอธิบาย ข้อดี ข้อเสียของ ระบอบการเมืองการปกครองต่อไปนี้

ระบอบประชาธิปไตย	ระบอบเผด็จการ
.....

จงอธิบายเหตุการณ์ ต่อไปนี้

สงครามโลกครั้งที่ 1

.....
.....
.....
.....
.....
.....

สงครามโลกครั้งที่ 2

.....
.....
.....
.....
.....
.....

